

- Гласные буквы *е, ё, ю, я* обозначают один звук:
 - После согласных.
 - В начале слова
 - После гласных.
 - После мягкого и твердого знака.
- В слове буква *я* обозначает один звук:
 - Яблоко
 - Кладовая
 - Пять
 - Семья
- Укажите предложение, в котором есть неизменяемое существительное.
 - И сырые дрова загораются.
 - У наших ворот всегда хоровол.
 - Мы вчера ходили в кино.
 - Весною сутки мочит, а час сушит.
- Антоним к слову «пассивный»:
 - Активный
 - Медленный
 - Огромный
 - Рассудительный

© «Достық» Білім беру орталығы


5.



Определите существительное с пропущенной гласной *-е-*:

- | | |
|----|------------|
| А) | Луж...й |
| В) | Весн...й |
| С) | Врач...м |
| D) | Экипаж...м |

- Укажите неизменяемое существительное:
 - Материал
 - Скатерть
 - Кенгуру
 - Небо
- Ударение на третьем слове:
 - Кинозал
 - Весело
 - Скоро
 - Здравствуй
- Определите существительное с пропущенной гласной *-о-*:
 - Ландыш...м
 - Умельц...м
 - Задач...й
 - Трубоч...м
- На какой вопрос отвечает текст-повествование?
 - Какой?
 - Почему?
 - Что произошло?
 - Когда?
- Укажите неизменяемое существительное:
 - Пальто
 - Сторона
 - Дом
 - Море
- Выражение «*Ни свет ни заря*» обозначает:
 - Слишком поздно
 - Очень похожи
 - Очень рано
 - Дороги друг другу



12. В слове буква *ю* обозначает один звук:

- А) Люш
- В) Юрга
- С) Каюта
- Д) Выюга

13. Укажите лишний вариант

- А) Сер...це
- В) Со...лнце
- С) Вес...ник
- Д) Лес...ник

14. Укажите синонимы

- А) Вестник, полснежник
- В) Хлеб, масло
- С) Силач, богатырь
- Д) Гром, метель

15. В строках:

*У плетня заросшая крапива
Обрядилась ярким перламутром.
И, качаясь, шепчет шаловливо:
«С добрым утром!» (С.Есенин).*
Выделенное слово:

- А) существительное
- В) глагол
- С) наречие
- Д) прилагательное

16. Укажите антонимы

- А) Легко -- тяжело
- В) Нежный -- ласковый
- С) Мороз -- стужа
- Д) Пурга -- метель

17. Укажите слово с непроизносимым согласным

- А) Чес...ный
- В) Искус...ный
- С) Блед...ный
- Д) Берёз...ка

18. Слитно пишется не с глаголом:

- А) (Не) дразнил
- В) (Не) умею
- С) (Не) доумевал
- Д) (Не) терять

19. В слове буква *е* обозначает один звук:

- А) День
- В) Подъезд
- С) Военный
- Д) Ель

20. В фрагменте:

*Звёздочки ясные, звёздочки высокие!
Что вы храните в себе, что скрываете?
Звёзды, таящие мысли глубокие,
Силой какою вы душу пленяете? (С.Есенин) –*
выделенные слова:

- А) Глаголы
- В) Прилагательные
- С) Существительные
- Д) Местоменя

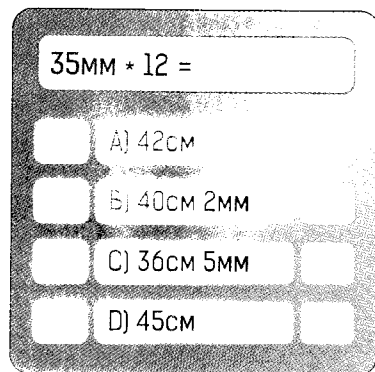
© «Достык» Білім беру орталығы

**ТЕСТ ПО ПРЕДМЕТУ
РУССКИЙ ЯЗЫК ЗАВЕРШЕН**


1. Решите уравнение: $312 \cdot 5 - x = 910$

- A) 740
- B) 800
- C) 650
- D) 780

2. Укажите верный вариант ответа.



3. Какой фигуры нет на рисунке?



- A) отрезок
- B) треугольник
- C) прямоугольник
- D) окружность

4. Вычислите: $6 \text{ т } 3 \text{ ц} : 9$

- A) 7 ц
- B) 70 кг
- C) 700 ц
- D) 70 ц

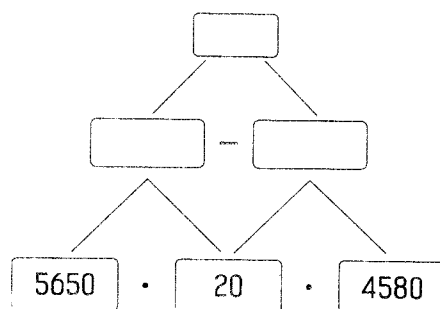
5. Вычислите: $524 : 4 - 72$

- A) 48
- B) 59
- C) 46
- D) 66

6. Арман, Бекжан, Асылбек и Ануар собрались вместе. Их профессии химик, физик, биолог и математик. Асылбек сел между математиком и биологом. Арман и Бекжан поздоровались с биологом. Арман оказался старше математика. Кем оказался Бекжан?

- A) Физик
- B) Химик
- C) Математик
- D) Биолог

7. Какое действие показано на рисунке:



- A) $5650 \cdot 20 + 4580 \cdot 20$
- B) $5650 - 4580 \cdot 20$
- C) $5650 \cdot 20 - 4580 \cdot 20$
- D) $5650 \cdot 20 - 4580$

8. Назовите число 21040.

- A) Двадцать одна тысяча сорок
- B) Двадцать один сорок
- C) Двести десять сорок
- D) Двадцать одна тысяча четыре

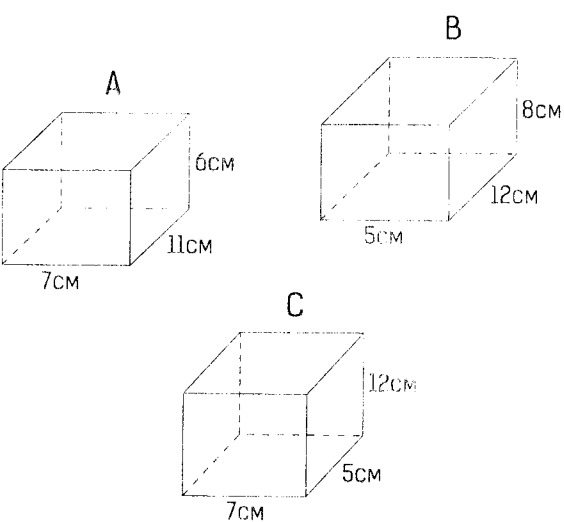
9.



Какое расстояние будет между машинами через полчаса?

- A) 100 км
- B) 80 км
- C) 60 км
- D) 70 км

10. У какой фигуры наибольший объем?



- A) B, C
- B) A
- C) B
- D) C

11. Ткань длиной 6 м 35 см разрезали на две части. Если длина одной из частей равна 378 см, то найдите длину второй части.

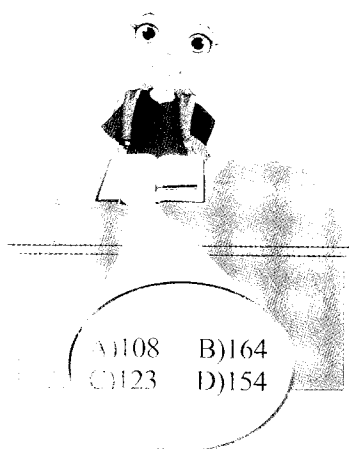
- A) 2 м 57 см
- B) 3 м 15 см
- C) 3 м 56 см
- D) 3 м 88 см

12. Ермек в течении двух дней 14 часов решал задачи. В первый день он решил 45 олимпиадных задач, а во второй 25 задач. Сколько часов он решал задачи в первый день? Известно, что количество задач которые он решал за час, было одним и тем же.

- A) 9 ч
- B) 11 ч
- C) 5 ч
- D) 7 ч

13.

79704 : 648



- A) 108
- B) 164
- C) 123
- D) 154

© «Достық» Білім беру орталығы

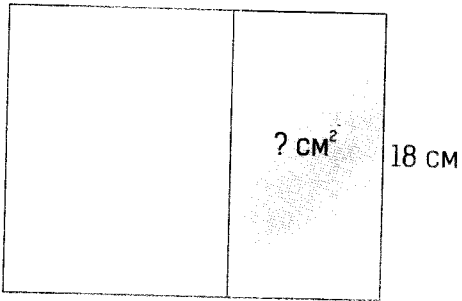
14. Длина прямоугольника на 6 см больше его ширины, а периметр равен 60 см. Найдите длину прямоугольника.

- A) 18 см
- B) 21 см
- C) 16 см
- D) 25 см

15. Вычислите: $12^2 + 14^2 - 4^2$

- A) 308
- B) 324
- C) 348
- D) 316

16. Квадрат разделили на две части. Периметр незакрашенной части равен 6 дм, найдите площадь закрашенной части квадрата.




- A) 116 см^2
- B) 124 см^2
- C) 126 см^2
- D) 108 см^2

18. Укажите уравнение:

- A) $2x + 3y$
- B) $3x - 15 < 15$
- C) $548 : 24 + 17$
- D) $7c + 8 = 24$

19. Расположите числа x, y, z в порядке убывания.



- A) $y; x; z$
- B) $y; z; x$
- C) $z; x; y$
- D) $z; y; x$

© «Достық» Білім беру орталығы

7. Сколько минут в 12 часах 10 минутах и 180 секундах?

- A) 800
- B) 723
- C) 684
- D) 733

20. За 30 брошюр было уплачено 24000 тенге. Сколько будет уплачено за 16 таких же брошюр?

- A) 14000 тенге
- B) 18000 тенге
- C) 16400 тенге
- D) 12800 тенге

**ТЕСТ ПО ПРЕДМЕТУ
МАТЕМАТИКА ЗАВЕРШЕН**

1. Из чего образовалось раннее земледелие:

- А) Охота
- Б) Животноводство
- С) Собирательство
- Д) Гончарное дело

2. Какой металл прочный и легкий, применяется в ракетостроении, электротехнике:

- А) Бронза
- В) Железо
- С) Алюминий
- Д) Свинец




3. Какое растение самое распространенное в степи:

- А) Ковыль
- В) Иван-чай
- С) Береза
- Д) Полынь

4. Как называется конусообразный отвал пустой породы на поверхности земли в промышленных районах:

- А) Шахта
- В) Террикон
- С) Карьер
- Д) Пирамида

5. Какой из нижних рисунков относится к истории нашей страны?



6. В верховьях реки Чилик обитает хангул. Кто это?

- А) Фелин
- В) Бухарский олень
- С) Дикий баран
- Д) Стенная белка

7. Самыми красивыми обитателями луга являются махаон, адмирал, голубянка и другие ...

- А) Бабочки
- В) Жуки
- С) Грызуны
- Д) Пчелы

8. Какое животное пустыни получило название «перелетная мышь» (по-казахски «паракуйрык»):

- А) Сorex
- В) Ушастый еж
- С) Скорпион
- Д) Джейран

9. Как мы называем время, которое Земля тратит на то, чтобы сделать полный оборот вокруг своей оси:

- А) Год
- В) Месяц
- С) Неделя
- Д) Сутки

10. Чему равна длина экватора:

- А) 60 000 км
- В) 20 000 км
- С) 40 000 км
- Д) 80 000 км

11. В чем причина того, что, когда Солнце освещает одну сторону Земли, вторая остается в темноте

- А) Плоская поверхность Земли
- В) Особенности рельефа Земли
- С) Шарообразная форма Земли
- Д) Большое расстояние от Земли до Солнца

© «Достык» Білім беру орталығы

12. В древности люди думали, что форма Земли не шарообразная, а какая:


- A) Плоская
- B) Квадратная
- C) На половину шаровая
- D) Треугольная

13. Зимой Северное полушарие Земли находится ближе всего к Солнцу. Почему же тогда зимой всё равно холодно:


- A) Земля покрыта пустынями
- B) Большую часть земной поверхности занимают равнины
- C) В Северном полушарии зимой солнечные лучи падают под малым углом
- D) Солнце на много больше Земли

14. Какой из нижних рисунков похож на земной шар?

A)



B)



C)



D)



15. С каким государством у Казахстана самая длинная граница:

- A) Китай
- B) Россия
- C) Узбекистан
- D) Кыргызстан

16. Что делит земной шар на два полушария: Северное и Южное:

- A) Экватор
- B) Начальный меридиан
- C) Земная ось
- D) Параллель

17. Линии на глобусе, соединяющие Северный и Южный полюса Земли, называются

- A) Экваторы
- B) Земные оси
- C) Параллели
- D) Меридианы

18. Выберите вариант, который не является океаном.

- A) Тихий
- B) Атлантический
- C) Северный Ледовитый
- D) Евразия

19. Определите причину того, что западная часть оз. Балхаш пресная, а восточная – соленая.

- A) На дне озера растет много водорослей
- B) Балхаш является очень глубоким озером
- C) Балхаш – одно из самых больших озер в мире
- D) Балхаш является бессточным соленым озером, но в западную часть озера впадает крупная река Или и опресняет его.

20. Кем вам будет приходится мама вашей двоюродной сестры:

- A) Сестрой
- B) Тетей
- C) Мамой
- D) Бабушкой

© «Достық» Білім беру орталығы

**ТЕСТ ПО ПРЕДМЕТУ
ПОЗНАНИЕ МИРА ЗАВЕРШЕН**